

地理学科寒假作业（预习导学案）Day 12 （练习时长：40 分钟）

姓名： 完成评价：

一、核心知识的归纳总结和梳理模块

- 1. 结合地理图表资料，描述人口分布的特点及其规律 (难点)。
- 2. 运用相关资料，分析某一具体地区影响人口分布的因素(重点)。

➤ 基础感知

一、世界人口的分布

1.分布规律：： 不均衡性 ， 形成了明显的人口 区 和人口稀疏区

- (1) 从全球看： 近 90% 的在北半球， 地带最集中。
- (2) 从距离海洋远近看： 60% 左右的在离海岸 以内。
- (3) 从海拔来看： 近 80% 的在海拔 以下的低平地区。

2. 人口分布状况

(1) 世界主要人口密集区及原因

人口密集区	原因
	中低纬度地区， 适宜；平原地区， 平坦， 肥沃， 充足；易于开发，农业较发达；交通便利；人类在此聚居的历史悠久等
	除自然条件优越外，更重要的原因是工业化早，工业化水平高；城市化早，城市化水平高等

(2) 世界人口稀少区及原因

人口稀少区	原因
带	湿热；病菌、蚊虫、蛇、大型食肉动物等危险生物多
带	干燥；水源和食物短缺等(人类主要聚居于绿洲)
	寒冷；食物短缺等

(3)我国人口分布： 分布不均衡。① 线， 以东以南人口稠密；以西以北人口稀疏。

二、影响人口分布的因素

1. 自然因素：

- (1) 气候： 气候较为适宜的 地区， 适合人类居住
- (2) 地形： 地区是人类的主要集居地。
- (3) 水源：

- ① 沿岸地区， 人口较为密集。
- ②在干旱地区， 有 的地方， 往往成为人口聚居地。

2. 人文因素：

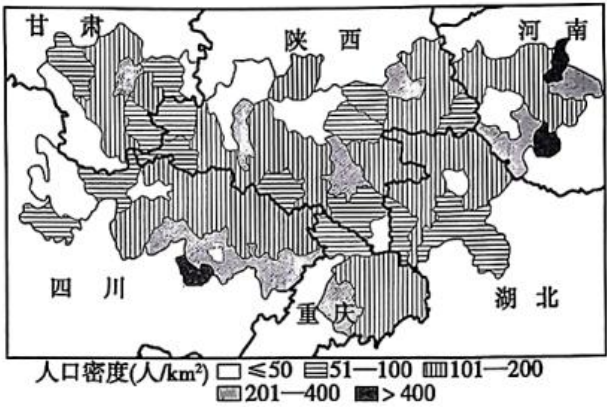
(1) 人类发展的不同阶段：农业社会，工业社会

(2) ：经济发展水平较高的地区，人口稠密

基础过关练

一、单选题

下图为我国某生态脆弱地区的人口密度分布图。完成下面小题。



1. 图示区域（ ）

- A.人均耕地面积较少
B.人口密度分布差异不大
C.经济发展水平普遍较高 D.城镇化水平整体呈南高北低

2. 影响该区域人口密度分布的主要自然因素是（ ）

- A.交通 B.地形 C.水源 D.气候

下表为世界部分大洲（亚洲、欧洲、北美洲、南美洲）不同海拔人口密度分布表（单位：人/km²）。完成问题。

大洲/人口密度/海拔	0~1 km	1~2 km	2~3 km	3~4 km	4~5 km
①	1.6	6.0	11.6	3.0	—
②	63.7	14.5	—	—	—
③	7.1	14.8	12.3	17.5	—
④	50.2	19.7	7.0	5.9	0.1

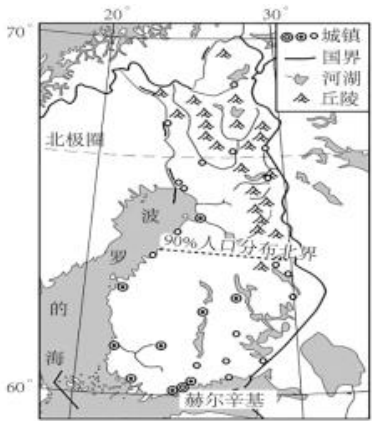
3. ①、②、③、④代表的大洲分别是（ ）

- A.北美洲、欧洲、南美洲、亚洲 B.南美洲、欧洲、北美洲、亚洲
C.欧洲、亚洲、北美洲、南美洲 D.南美洲、亚洲、北美洲、欧洲

4. ③大洲 2~4km 人口密度较大的主要原因是（ ）

- A.地势起伏较大 B.气候较干旱
C.平均海拔最高 D.热带范围广

芬兰位于欧洲北部，地势北高南低，森林覆盖率达 80%，其中 90%的人口集中在南部地区，如图为芬兰地理位置及其周边地区示意图。据此完成下列小题。



5. 与芬兰人口分布具有相似性的国家是（ ）

A.巴西 B.加拿大 C.中国 D.美国

6. 对芬兰人口分布影响较小的因素是（ ）

A.气候条件 B.地形地势 C.植被覆盖率 D.交通状况

图为世界不同纬度人口分布示意图，读图完成下题。

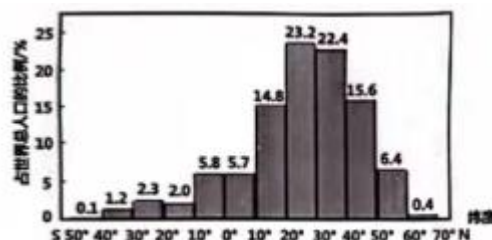
7. 世界人口集中分布在（ ）

A.北半球中低纬度地区 B.北半球高纬度地区

C.南半球中低纬度地区 D.南半球高纬度地区

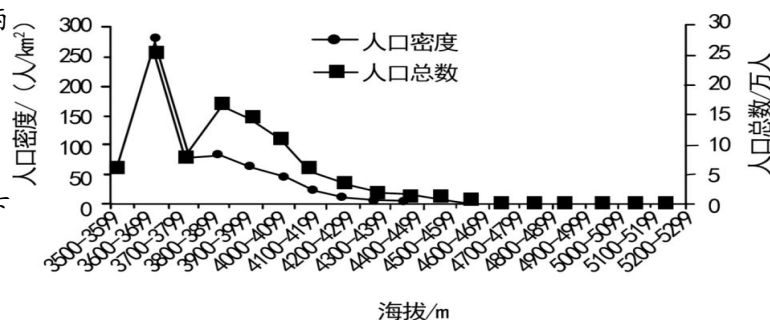
8. 世界人口集中分布地区的自然环境特征可能是

A.高寒气候 B.地势陡峭 C.炎热少雨 D.温暖湿润



西藏自治区的“一江两河”地区指雅鲁藏布江及其支流年楚河和拉萨河中部流域，位于青藏高原的南部。下图示意该区域不同海拔人口分布。据此完成下面小题。

西藏自治区的“一江两河”地区指雅鲁藏布江及其支流年楚河和拉萨河中部流域，位于青藏高原的南部。下图示意该区域不同海拔人口分布。据此完成下面小题。



9. 下列选项中人口聚居地面积最大的是（ ）

A. 3500~3599 米 B. 3600~3699 米 C. 3700~3799 米 D. 3800~3899 米

10. 该地区 3500~3599 米最可能（ ）

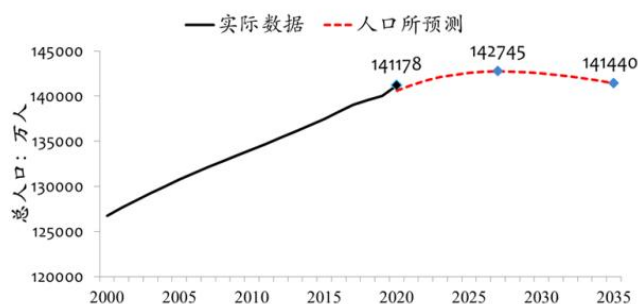
A. 炎热潮湿 B. 寒冷干燥 C. 谷宽地平 D. 坡陡地狭

人口始终是国家发展的基础性、全局性、长期性和战略性要素。中国大陆总人口数在 2017 年突破 14 亿，在 2020 年达到 14.12 亿，“十四五”及中长期总人口将相继经历零增长、负增长，2035 年前都在 14

亿人左右。联合国预测，印度总人口将在 2023 年超过中国。但是，中国的城镇化水平、劳动力素质、人均产出均高于印度。据此，完成下面小题。

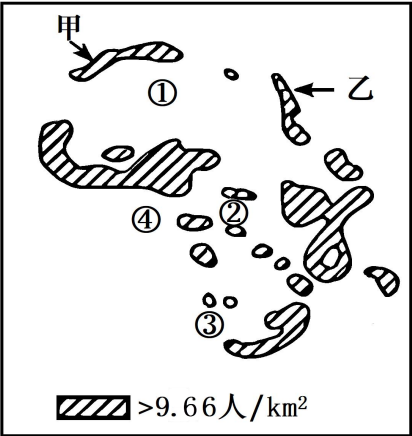
11. 当前，我国人口问题更突出表现在哪些方面（ ）

①人口老龄化②性别比失衡③年均增长率高④部分区域出现负增长



- A. ①② B. ②③ C. ③④ D. ①④
12. 为实现人口红利向人才红利的转变，下列措施可行的是（ ）
- A. 贯彻计划生育基本国策 B. 鼓励生育 C. 提高人口素质 D. 接纳海外移民
13. 与中国相比，未来印度跻身世界第一大人口大国，短期内面临更严重的困难是（ ）
- A. 人均耕地更少 B. 老龄化问题显著 C. 社会治安问题加剧 D. 出现大量失业人口

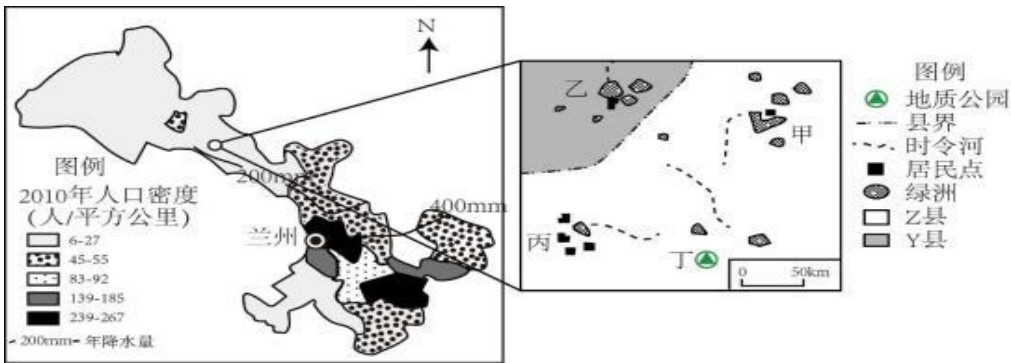
著名学者邦奇等曾用人类大陆图揭示世界人口分布问题，在地图上取消陆地和海洋，仅画出人类密集的地区，人类密集区称为人类大陆。下图是“非洲人类大陆图的局部图”。据此完成下面小题。



14. 图中乙地区人口呈带状分布，其影响因素是（ ）
- A. 地形 B. 交通 C. 河流 D. 土壤
15. ①②③④四地在图中都不位于人类大陆地区，其原因主要是（ ）
- A. ①是纬度较高 B. ②是热带雨林 C. ③是海洋分布 D. ④是地势较低

16. 阅读图文材料，完成下列要求。

甘肃省东通陕西、西达新疆，省会兰州处于西北地区的“十字路口”，是该省最重要的经济、文化、科技中心。该省西北部的Z县制定了县域内精准扶贫方案，规划对某一村落实行生态搬迁。图左示意甘肃省人口空间分布，图右示意生态搬迁备选安置点分布。



- (1) 描述甘肃省人口空间分布特征。
- (2) 说明气候对甘肃省人口空间分布的影响。
- (3) 简析兰州人口密集的社会经济原因。