

地理学科寒假作业（复习） Day 15 （练习时长：40 分钟）

姓名： 完成评价：

一、核心知识的归纳总结和梳理模块



二、练习模块

（一）单选题（每小题 5 分）

根据第七次人口普查结果显示，与 2010 年第六次全国人口普查相比，东部地区人口所占比重上升 2.15 个百分点，中部地区人口所占比重下降 0.79 个百分点，西部地区人口所占比重上升 0.22 个百分点，东北地区人口所占比重下降 1.20 个百分点。据此完成下面小题。

- 1. 与第六次人口普查相比，第七次人口普查时（ ）
 - A. 人口区域差异缩小
 - B. 中部地区人口最多
 - C. 西部地区人口稳定
 - D. 东部地区增速最快
- 2. 东北部地区人口所占比重下降可能会使得该地区（ ）
 - A. 劳动力流失严重
 - B. 自然环境恶化
 - C. 社会治安变差
 - D. 区内发展差异扩大
- 3. 下列与环境人口容量成负相关的是（ ）
 - A. 自然资源的数量和质量
 - B. 生活和文化消费水平
 - C. 地区开放程度
 - D. 科技发展水平

侨汇收入是侨居在国外的本国公民汇回祖国的款项，下表示意 2023 年世界十大侨汇收入国及侨汇收入（取十亿整数）。读表，完成下面小题。

国家	印度	墨西哥	中国	菲律宾	法国	埃及	巴基斯坦	孟加拉国	尼日利亚	危地马拉
侨汇收入 (亿美元)	1250	670	500	400	340	240	240	230	210	200

- 4. 埃及的侨汇收入主要来自沙特阿拉伯的原因是两国（ ）
 - A. 经济发展水平相同
 - B. 地理位置较为邻近
 - C. 石油工业都很发达
 - D. 劳动力需求相同
- 5. 下列有关叙述符合实际的是（ ）
 - A. 十大侨汇收入国都是发展中国家
 - B. 十大侨汇收入国都是人口过亿国家
 - C. 埃及、巴基斯坦侨汇群体以男性为主

D. 尼日利亚、危地马拉侨汇主要来自欧洲

6. 近几年我国侨汇多以企业形式汇回的主要原因是（ ）

- A. 中国企业在海外快速发展 B. 新的网络支付手段
C. 海外汇款的安全性选择 D. 中国政府政策引导

为了深入贯彻落实党中央关于渐进式延迟法定退休年龄的决策部署，适应我国人口发展新形势，充分开发利用人力资源，根据宪法，第十四届全国人民代表大会常务委员会第十一次会议决定：同步启动延迟男、女职工的法定退休年龄，用十五年时间，逐步将男职工的法定退休年龄从原六十周岁延迟至六十三周岁，将女职工的法定退休年龄从原五十周岁、五十五周岁分别延迟至五十五周岁、五十八周岁。据此完成下面小题。

7. 与我国做出延迟法定退休年龄决定关系最密切的是人口（ ）

- A. 总数量减少 B. 生育率下降 C. 老龄化严重 D. 劳动力不足

8. 延迟法定退休年龄政策使我国（ ）

- A. 人口迁移数量增加 B. 环境人口容量增加
C. 人力资源供给提升 D. 人口分布格局改变

自 20 世纪 80 年代开始，每年冬季，越来越多的英国人、德国人和北欧人前往西班牙、意大利和葡萄牙等欧洲南部国家生活。据此完成下面小题。

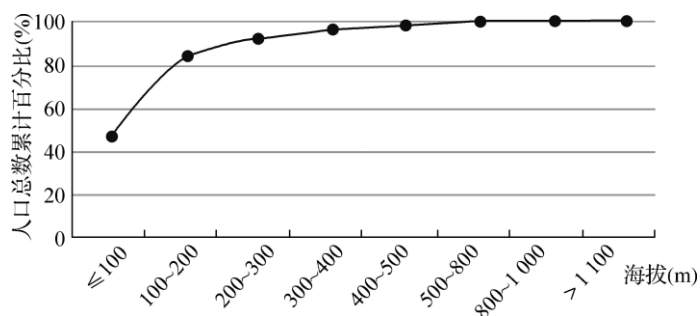
9. 冬季，前往欧洲南部国家的人群主要为（ ）

- A. 城市老年人口 B. 农村老年人口
C. 退休的高收入者 D. 热爱户外的青年

10. 影响该类人员前往欧洲南部国家的主要因素是（ ）

- A. 基础设施 B. 交通条件 C. 气候差异 D. 空气质量

某地理兴趣小组利用地理信息技术处理人口分布数据和地形数据后，制作出海拔与人口数量的关系曲线。据此完成下面小题。



11. 该区域人口分布与海拔的关系为 ()

- A. 海拔越高, 人口越稠密 B. 随海拔升高, 人口均匀增加
C. 海拔 200m 以下, 人口占比最多 D. 海拔 200m 以上, 人口占比最多

12. 该地理兴趣小组利用的地理信息技术为 ()

- A. BDS 获取人口分布数据 B. GIS 分析人口分布数据
C. RS 获取人口分布数据 D. GIS 采集该区域地形数据

归农归村作为韩国政府面向城市居民实施的人口回流诱导政策, 也是乡村人才振兴的主要措施。2013—2018 年, 归农和归村人口分别由 10312 人、405452 人增至 12055 人、472474 人, 2018 年, 韩国的归农归村类型分为 U 型(生于农村, 工作于城市, 后返回出生地)、J 型(生于农村, 工作于城市, 后回到其他地区的农村)和 I 型(出生并工作于城市, 后迁往农村), 其中 U 型占比最高(归农 53%、归村 37.4%)。从年龄分层来看, 最常见的归农年龄为 50~59 岁(37.3%), 最常见的归村年龄为 30 岁及以下(50%)。完成下面小题。

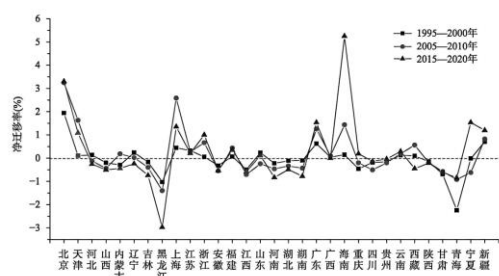
13. 韩国出现规模化归农归村现象的原因, 分析不正确的是 ()

- A. I 型退休老人有归农情结 B. 城市就业岗位不足
C. 农村自然环境的优势吸引 D. 农村基础设施改善

14. 韩国的规模化归农归村现象产生的影响, 分析正确的是 ()

- A. 使韩国的传统文化受到冲击 B. 降低了农村房屋闲置率
C. 解决了韩国深度老龄化问题 D. 提升了韩国城市化水平

中国正在逐步进入深度老龄化阶段, 老年人口迁移已逐渐成为人口迁移流动的重要组成。如图为 1995-2020 年我国各省份老年人口净迁移率分布图, 据此完成下面小题。



15. 1995-2020 年, 我国老年人口迁移规模 ()

- A. 先减小后增大 B. 先增大后减小 C. 持续减小 D. 持续增大

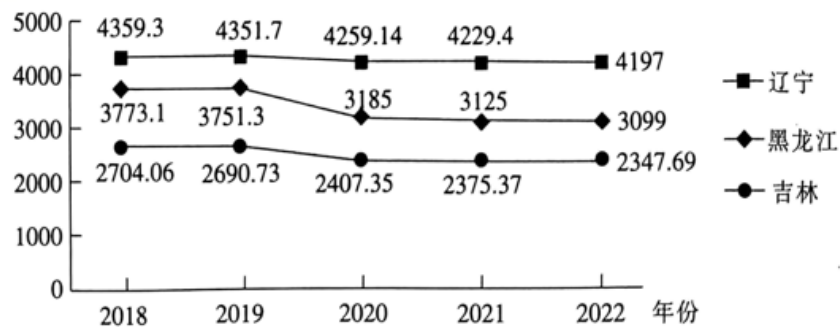
16. 广东省是我国老年人口净迁入最多的省份, 最主要原因是 ()

A. 医疗保障完善 B. 自然环境优美 C.经济收入较高 D. 家庭代际互助

（二）综合题（20 分）

17. 阅读图文材料，完成下列要求。

一个地区人口数量变化与当地自然因素和社会经济因素密切相关。近年来，东北三省人口外迁数量增长显著。人口对社会经济发展产生了重要的影响。下图为东北三省近五年常住人口数据（单位：万人）。



(1)描述东北三省人口变化特征并说明原因。（9 分）

(2)简述东北三省常住人口变化对当地的社会经济发展的不利影响。（6 分）

(3)针对东北三省人口变化提出相应的解决措施。（5 分）